

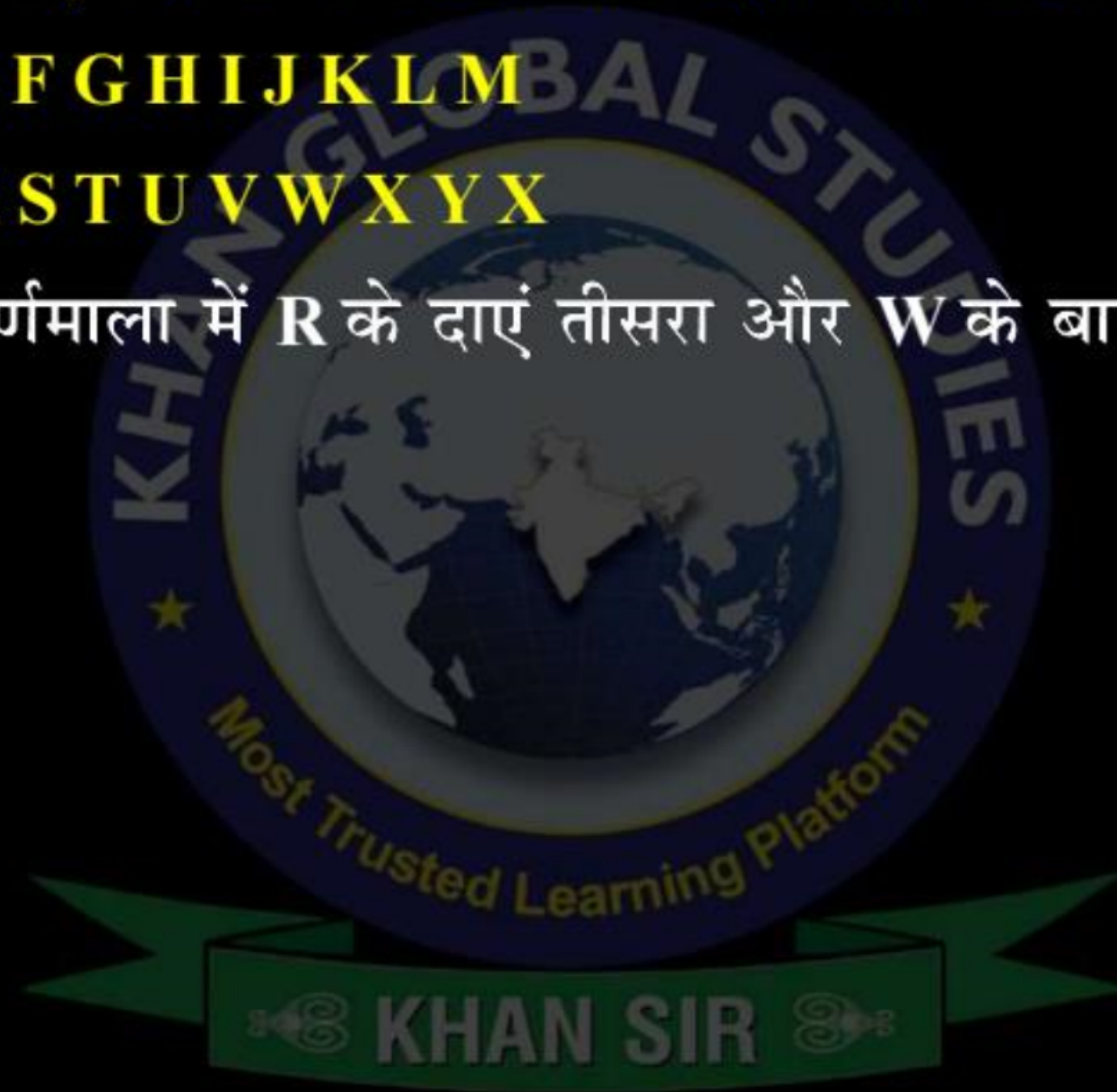
निर्देश: नीचे दिए गए अंग्रेजी वर्णमाला के अक्षरों के आधार पर प्रश्नों के उत्तर दें:

A B C D E F G H I J K L M

N O P Q R S T U V W X Y Z

01. दिए गए अंग्रेजी वर्णमाला में **R** के दाएं तीसरा और **W** के बाएं दूसरा अक्षर क्रमशः कौन हैं?

- (a) T, T
- (b) U, U
- (c) U, T
- (d) T, U
- (e) None



02. अंग्रेजी वर्णमाला में बाएं से चौदहवें तथा दाएं से सोलहवें अक्षरों के बची कौन-सा अक्षर होगा?

- (a) J
- (b) L
- (c) K
- (d) M
- (e) None



03. अंग्रेजी वर्णमाला में दाये से उन्नीसवें एवं बायें से पन्द्रहवें अक्षरों के बीच कौन-सा अक्षर/अक्षरें हैं?

- (a) निर्धारित नहीं किया जा सकता
- (b) K
- (c) K
- (d) K,L
- (e) None



04. अंग्रेजी वर्णमाला को दाहिनी ओर से गिनने पर पन्द्रहवें अक्षर के दाहिने सातवा, अक्षर कौ-सा होगा?

- (a) S
- (b) V
- (c) H
- (d) E
- (e) None



05. यदि अंग्रेजी वर्णमाला को विपरीत क्रम में (Z से A तक) लिखा जाय तो आपके बांयी ओर से सावतें अक्षर के दाहिने पाँचवाँ अक्षर कौन-सा होगा?

- (a) O
- (b) L
- (c) Y
- (d) B
- (e) None



06. यदि अंग्रेजी वर्णमाला को विपरीत क्रम में लिखा जाय तो आपके दाहिनी ओर से बारहवाँ अक्षर के दायें ग्यारहवाँ अक्षर कौन-सा होगा?

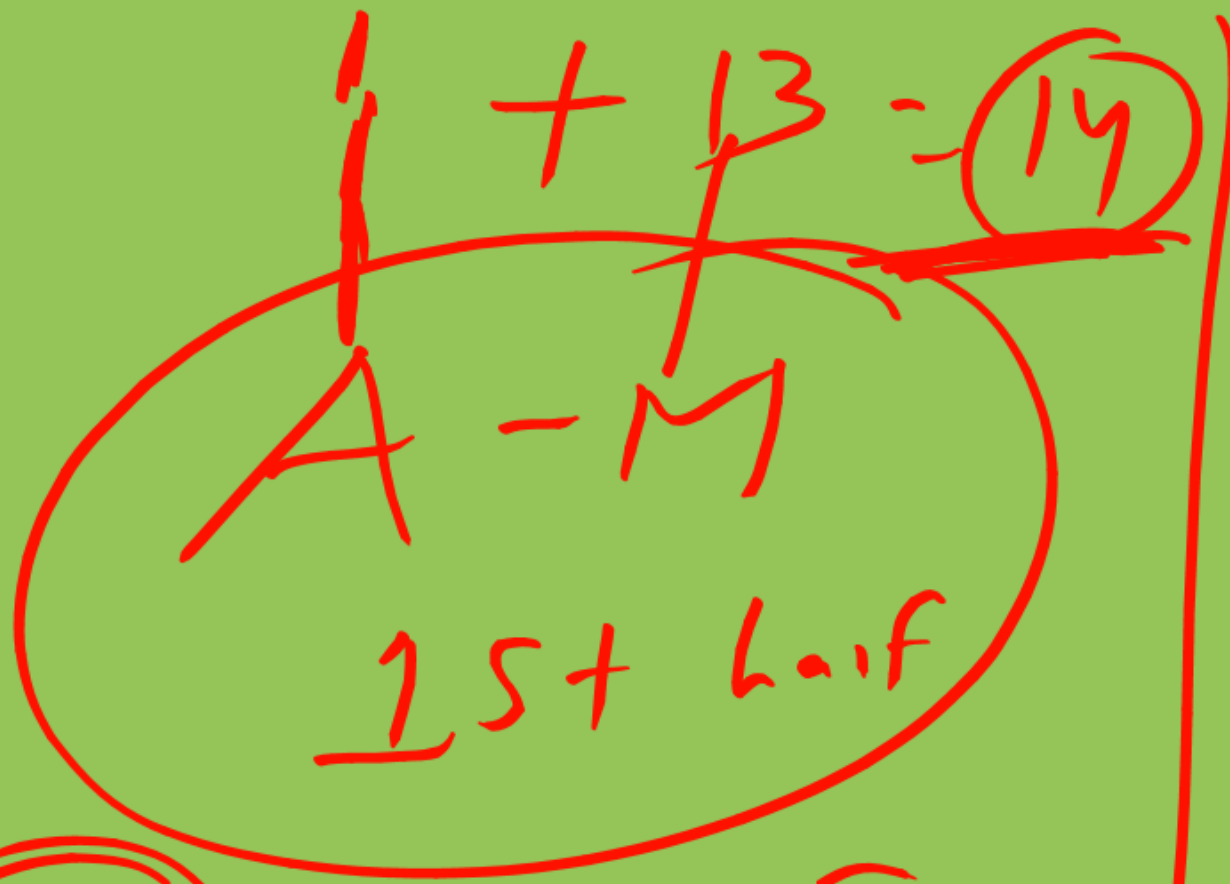
- (a) Y
- (b) A
- (c) B
- (d) Z
- (e) None



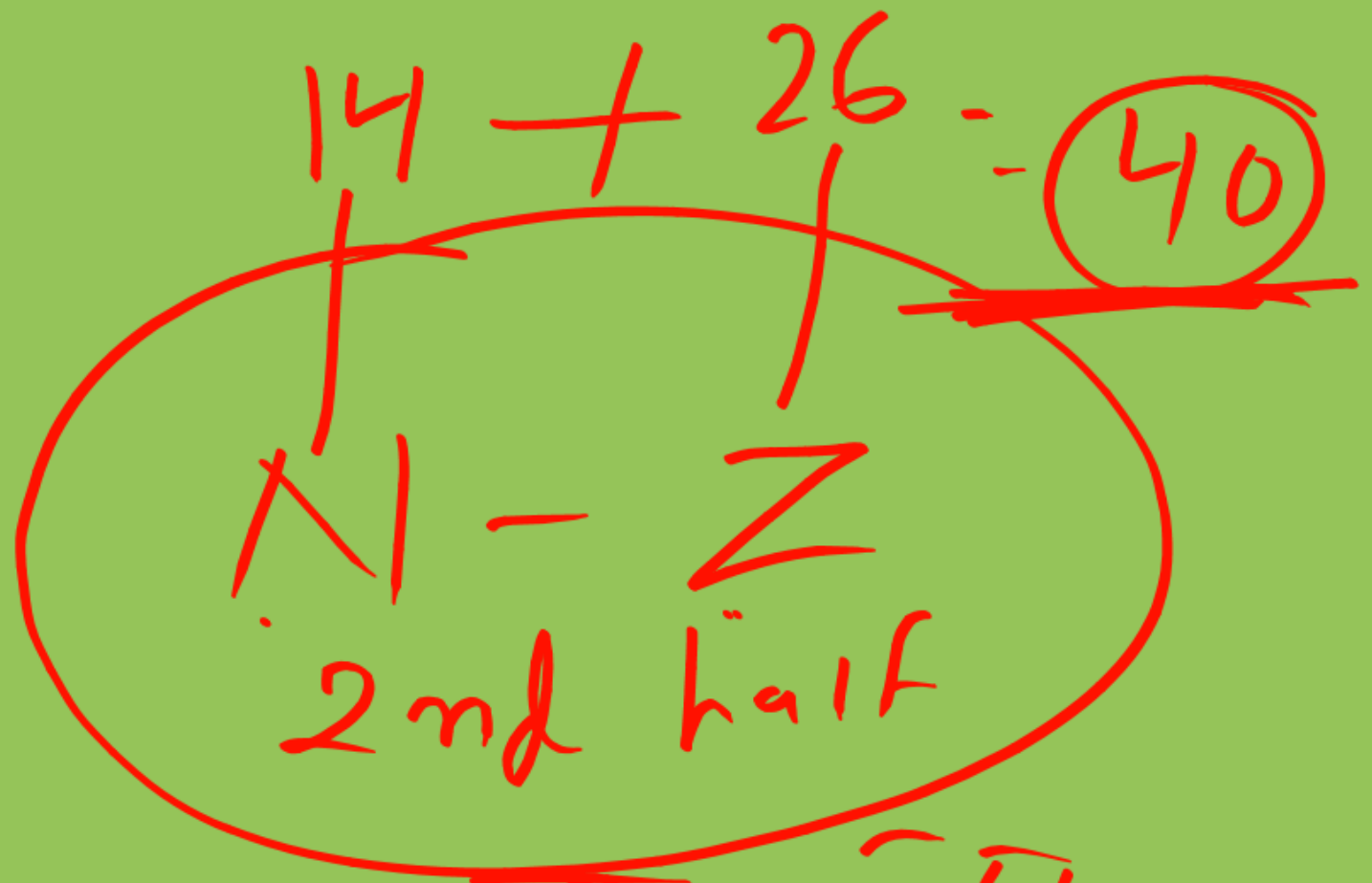
07. यदि अंग्रेजी वर्णमाला के पहले आधे भाग को विपरीत क्रम में लिखा जाय तो दाहिनी ओर से चौदहवाँ अक्षर कौन-सा होगा?

- (a) N
- (b) M
- (c) A
- (d) B
- (e) None





14 → 1st half



40 → 2nd half

$\begin{matrix} 1 & 2 & 3 & 4 & 5 & 6 & 7 & 8 & 9 & 10 & 11 & 12 & 13 & 14 & 15 & 16 \\ \text{A} & \text{B} & \text{C} & \text{D} & \text{E} & \text{F} & \text{G} & \text{H} & \text{I} & \text{J} & \text{K} & \text{L} & \text{M} & \text{N} & \text{O} & \text{P} \\ \text{Q} & \text{R} & \text{S} & \text{T} & \text{U} & \text{V} & \text{W} & \text{X} & \text{Y} & \text{Z} & & & & & & \end{matrix}$

Key

ਦਿੱਤੀ ਗਈ ਹੈ।

ਉੱਚੇ ਨੂੰ 16 ਵੀਂ ਸਮੇਂ

ਦਿੱਤੀ ਗਈ ਹੈ।

$$40 - 16 = \boxed{24} \text{X} \cdot A$$

08. यदि अंग्रेजी वर्णमाला के दूसरे आधे भाग को विपरीत क्रम में लिखा जाय तो बायीं ओर से उन्नीसवाँ अक्षर कौन-सा होगा?

- (a) U
- (b) S
- (c) R
- (d) V
- (e) None

एक वर्णमाला है

19 वाँ

होगा

कुल वर्णमाला 26 है

$$26 - 19 = 7$$

KHAN SIR

<u>15+</u>	<u>2nd</u>
<u>14</u>	40

09. यदि अंग्रेजी वर्णमाला के प्रथम आधे भाग को विपरीत क्रम में लिखा जाय तो आपके बायीं ओर से तेईसवें अक्षर के बायीं ओर तीसरा अक्षर कौन-सा होगा?

- (a) T
- (b) X
- (c) A
- (d) G
- (e) None

~~Handwritten notes in Hindi:~~
प्रथम पल्ल
एक बायें
द्वितीय
तीसरा
T

10. यदि अंग्रेजी वर्णमाला के प्रथम आधे भाग तथा दूसरे आधे भाग को विपरीत क्रम में लिखा जाए तो आपके बायीं ओर से दसवें अक्षर के दाहिने चौथा अक्षर कौन-सा होगा?

- (a) Z
- (b) N
- (c) M
- (d) A
- (e) None

40 - 14
= 26

Z

क्या करूँ

दिए गए अक्षरों के दसवें अक्षर के दाहिने चौथे अक्षर

10 वां अक्षर
4 वां अक्षर

ANS

N
दोनों पक्षों पर FM

11. यदि अंग्रेजी वर्णमाला के प्रथम आधे भाग तथा दूसरे आधे भाग को विपरीत क्रम में लिखा जाए तो आपके दांयी ओर से बीसवाँ अक्षर के बाएं चौथा अक्षर कौन-सा होगा?

- (a) Y
- (b) N
- (c) M
- (d) K
- (e) None

Handwritten solution in Hindi:

21वाँ अक्षर (दोहा) 4वाँ अक्षर

1 2 3 4 5 6 7 8 9 10 11 12 13 14 15 16 17 18 19 20 21 22 23 24 25 26 27 28 29 30

के 12 12 20वाँ + 4वाँ =

दोहा 24 (25)

27 - 24 = 3 (Aniket)

Watermark: KHAN SIR, Most Trusted Learning Platform

Classification in Alphabet

वर्णमाला का वर्गीकरण

उ-वर्ण नि-वर्ण

~~a~~ c b I c o d A e E

Vowel → ह्रस्व → A, E, I, O, U

Con → संज्ञा संज्ञक कारण

Q4) अक्षरों की संख्या

① E ② M ③ A ④ W

4 रेखा 4 रेखा 3 रेखा 4 रेखा

| रेखा | रेखा | रेखा | रेखा

15 है 15

(3-18) आप न

पुस्तक के अंत में 15/15/15

3-1000 ମିନିଟ୍

①

PK
16 11

27
ବିହୀନ

⑤

XC
24 3

27
ବିହୀନ

~~⑥~~ WIR
23 18

①

ZA
26 1

27
ବିହୀନ

अभिमान के शत्रु है अज्ञान

एदो / धरो / दोपरी

के अन्तः

अज्ञान के अन्तः + / -

$\frac{40}{-26}$
14

Ⓐ ABC
 $1+2=3$

Ⓑ PAQ
 $16+1=17$

Ⓒ TCW
 $20+3=23$

Ⓓ RVP
 $18+22=40$

12. निम्नलिखित पांच में से चार एक-से हैं तथा इस प्रकार वे अलग समूह बनाते हैं, कौन-सा एक उस समूह में सम्मिलित नहीं है?

(a) FHB

(b) LSG

(c) ~~GJC~~

~~(d) JPE~~

(e) None

F ① H B
6 8 3
↑

J ② P E
10 16 5
↑

L S S
12 ③ 19 7
↑

G J C
7 10 3
↑

13. उपर्युक्त वर्णमाला में बाएं से 17वें अक्षर और दाएं से 17 वें अक्षर के ठीक मध्य का अक्षर निम्नलिखित में से कौन-सा है?

- (a) ज्ञात नहीं कर सकते
- (b) M
- (c) N
- (d) O
- (e) None



14. निम्नलिखित पांच में से चार एक-से हैं तथा इस प्रकार से अलग समूह बनाते हैं, कौन-सा एक उस समूह में सम्मिलित नहीं है?

- (a) CGD
- (b) CRO
- (c) NWH
- (d) HJB
- (e) None



निर्देश (प्रश्न (15-22) एक अनुक्रम दिया है, जिसमें एक पद लुप्त है। दिए गए विकल्पों में से वह सही विकल्प चुनिए जो अनुक्रम को पूरा करेगा।

15. AMN, BOP, CQR, ?

- (a) BAS
- (b) DST
- (c) EQP
- (d) FRS



16. CAE, HFJ, MKO, RPT, ?

- (a) WUY
- (b) UTV
- (c) YUZ
- (d) WUZ



17. **Y, S, U, O, Q, ?, ?**

(a) **N, O**

(b) **K, M**

(c) **J, K**

(d) **H, I**



18. EAC, GCE, IEG, ?

- (a) JHI
- (b) KGI
- (c) JGI
- (d) KIJ



19. (a) BEG
(b) KNP
(c) WZB
(d) JLN



20. AZ, BY, CX, ?

- (a) EV
- (b) WD
- (c) DW
- (d) YV

