

विश्व भूगोल प्राथमिक परीक्षा

Q 1. निम्नलिखित में से कौन-सा सत्य है?

1. सूर्य का व्यास पृथ्वी से अधिक है।
2. सूर्य का द्रव्यमान पृथ्वी से अधिक है।
3. सूर्य के घूर्णन की अवधि पृथ्वी से कम है।
4. सूर्य का औसत घनत्व पृथ्वी से कम है।

- (a) केवल 1 एवं 2
- (b) केवल 1, 2 एवं 3
- (c) केवल 1, 2 एवं 4
- (d) उपरोक्त सभी

Q 2. निम्नलिखित में से किस ग्रह पर दिन एवं रात की अवधि पृथ्वी पर दिन एवं रात की अवधि के लगभग बराबर होता है?

- (a) शुक्र
- (b) मंगल
- (c) शनि
- (d) बृहस्पति

Q 3. उल्का को निम्नलिखित में से किस रूप में परिभाषित किया जा सकता है?

- (a) अपने समूह से निकलकर भटकता हुआ एक क्षुद्रग्रह
- (b) अपने समूह से निकलकर भटकता हुआ एक तारा
- (c) अति तीव्र गति से गतिमान एक तारा
- (d) पृथ्वी के वायुमण्डल में प्रविष्ट ठोस आकाशीय पदार्थ

Q 4. अक्षांश रेखाओं के संबंध में निम्नलिखित में से कौन-सा कथन असत्य है?

1. अक्षांश रेखाओं के बीच की दूरी विषुवतरेखीय क्षेत्र में अधिकतम एवं ध्रुवीय क्षेत्र में न्यूनतम होती है।
2. पृथ्वी के धरातल के उच्चावच के अनुसार अक्षांश रेखाओं के बीच की दूरी में परिवर्तन होता है।
3. अक्षांश रेखा 0 से 90° उत्तर एवं दक्षिण होती है।
4. अक्षांश रेखा पूर्ण रूप से विषुवत रेखा के समानांतर होती है।

- (a) केवल 2 एवं 4
- (b) केवल 1 एवं 2
- (c) केवल 1, 2 एवं 4
- (d) केवल 1 एवं 4

Q 5. निम्नलिखित में से कौन-सा कथन असत्य है?

- (a) देशांतर रेखाओं की कुल संख्या 180 है।
- (b) किसी भी स्थान की ग्रीनविच रेखा से कोणीय दूरी को उस स्थान का देशांतर कहा जाता है।
- (c) देशांतर रेखाओं के बीच की दूरी विषुवतरेखा पर अधिकतम एवं ध्रुवों पर शून्य होती है।
- (d) विषुवत रेखा पर देशांतर रेखाओं के बीच की दूरी 111.3 किमी होती है।

Q 6. निम्नलिखित में से कौन-सा कथन असत्य है?

- (a) भू-पटल की औसत मोटाई लगभग 33 कि.मी. है।
- (b) महाद्वीपीय भाग में भू-पटल की मोटाई अधिक है, जबकि महासागरीय भाग में यह छिछला है।
- (c) महाद्वीपीय भू-पटल मुख्यतः ग्रेनाइट चट्टानों से निर्मित है।
- (d) महासागरीय भू-पटल की तुलना में महाद्वीपीय भू-पटल का घनत्व अधिक है।

Q 7. निम्नलिखित में से किस परत को बेरीस्पफीयर कहा जाता है?

- (a) वायुमण्डल की सबसे ऊपरी परत
- (b) पृथ्वी की सबसे बाहरी परत
- (c) पृथ्वी की सबसे आंतरिक परत
- (d) वायुमण्डल की मध्यवर्ती परत

Q 8. भू-गर्भ में तापमान वृद्धि का मुख्य कारण क्या है?

1. ग्लोबल वार्मिंग
2. दबाव
3. सूर्य से प्राप्त तापीय ऊर्जा का संचयन
4. रेडियो सक्रिय पदार्थों का विखण्डन

- (a) केवल 2, 3 एवं 4
- (b) केवल 2 एवं 4
- (c) केवल 1, 2 एवं 4
- (d) उपरोक्त सभी

Q 9. निम्नलिखित में से कौन सूर्यातप को प्रभावित करने वाला कारक है?

1. आपतन कोण
2. धरातल की प्रकृति
3. सूर्य के प्रकाश की अवधि
4. पृथ्वी एवं सूर्य के बीच की दूरी में अंतर

कूट:

- (a) केवल 1 एवं 3
- (b) केवल 1, 3 एवं 4
- (c) केवल 1, 2 एवं 3
- (d) उपरोक्त सभी

Q 10. सौर ऊर्जा का वह भाग जो पृथ्वी तक पहुंचता है, क्या कहलाता है?

- (a) विकिरित ऊर्जा
- (b) संवहन ऊर्जा
- (c) सूर्यातप
- (d) सौर स्थिरांक

Q 11. निम्नलिखित में से किस विधि से उष्मा बिना किसी माध्यम के शून्य से होकर भी गमन कर सकती है?

- (a) संवहन
- (b) विकिरण
- (c) संचालन
- (d) उपरोक्त सभी

Q 12. समताप रेखा वह काल्पनिक रेखा है, जो वैसे स्थानों को मिलाती है, जहाँ—

- (a) साल भर तापमान लगभग एक समान रहता है।
- (b) ग्रीष्म एवं शीत ऋतु के तापमान में नगण्य अंतर पाया जाता है।
- (c) एक विशेष समय में तापमान समान रहता है।
- (d) उपरोक्त सभी

Q 13. निम्नलिखित में से कौन-सा कथन सत्य है?

- (a) पठार का निर्माण लंबवत् भू-संचलन के फलस्वरूप होता है।
- (b) पठार का शिखर वाला भाग काफी विस्तृत एवं सपाट होता है।
- (c) पठार के किनारे पर काफी तीव्र ढाल पाई जाती है।
- (d) उपरोक्त सभी

Q 14. निम्नलिखित में से कौन अंतःपर्वतीय पठार का उदाहरण है?

1. तिब्बत का पठार
2. बोलिविया का पठार
3. कोलंबिया का पठार
4. गोबी का पठार

कूट:

- (a) केवल 1 एवं 2
- (b) केवल 1, 2 एवं 4
- (c) केवल 1, 2 एवं 3
- (d) उपरोक्त सभी

Q 15. वायुमण्डल को क्षोभमण्डल, समताप मण्डल आदि परतों में विभाजित करने का मुख्य आधार क्या है?

- (a) तापमान
- (b) वायुदाब
- (c) संघटन
- (d) घनत्व

Q 16. निम्नलिखित में से कौन-सा कथन सत्य है?

- (a) समताप मण्डल में तापमान में क्रमशः वृद्धि होती है।
- (b) समताप मण्डल में तापमान में क्रमशः कमी होती है।
- (c) समताप मण्डल में तापमान स्थिर रहता है।
- (d) पहले तापमान में क्रमशः वृद्धि होती है, उसके बाद कमी आती है।

Q 17. सूची-I को सूची-II से सुमेलित कीजिए तथा नीचे दिए गए कूट से सही उत्तर का चयन कीजिए:

सूची-I (शब्द)

- A. अक्षांशों के समानांतर
- B. देशांतर का मेरिडियन (देशांतरीय याम्योत्तर)
- C. अक्षांश
- D. देशान्तर

सूची II (परिभाषाएँ)

1. ध्रुव से ध्रुव तक चलने वाले काल्पनिक अर्धवृत्त।
2. प्रधान मध्याह्न (याम्योत्तर) रेखा से किसी स्थान की कोणीय दूरी।
3. भूमध्य रेखा के समानांतर चलने वाले काल्पनिक वृत्त।
4. भूमध्य रेखा से किसी स्थान की कोणीय दूरी
5. दो ध्रुवों को मिलाने वाली एक काल्पनिक सीधी रेखा जिस पर पृथ्वी घूमती है।

कूट:

	A	B	C	D
(a)	5	1	4	3
(b)	3	4	5	2
(c)	5	4	2	3
(d)	3	1	4	2

कूट:

	A	B	C	D
(a)	1	2	3	4
(b)	4	3	2	1
(c)	4	3	1	2
(d)	2	3	1	4

Q 18. निम्नलिखित में से कौन-सी प्लेट छोटी नहीं है/हैं?

1. प्रशांत प्लेट
2. अरेबियन प्लेट
3. कैरेबियन प्लेट
4. अंटार्कटिक प्लेट

Q 20. निम्नलिखित में से कौन एंडीज़ की सबसे ऊँची चोटी है?

- (a) एक्कॉन्कागुआ या आक्कॉन्कागुआ या आक्कॉन्काग्वा (Aconcagua)
- (b) माउंट कोटोपैक्सी
- (c) तुपुंग्वाटो
- (d) ओजोस डेल सलाडो

कूट:

- (a) 1, 2 और 3
- (b) 2 और 3
- (c) 1 और 4
- (d) केवल 1

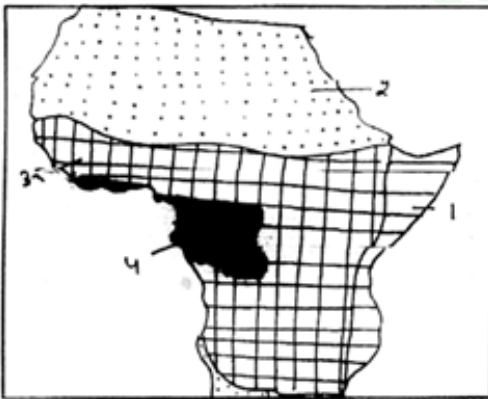
Q 21. निम्नलिखित कथनों पर विचार कीजिए:

1. जो धाराएँ उच्च अक्षांशों से निम्न अक्षांशों की ओर बहती हैं, वे ठंडी धाराएँ हैं।
2. कैलीफोर्निया जलधारा प्रशान्त महासागर की एक गर्म जलधारा है।

कूट:

- (a) 1 और 2 दोनों सही हैं।
- (b) 1 और 2 दोनों गलत हैं।
- (c) केवल 1 सही है।
- (d) केवल 2 सही है।

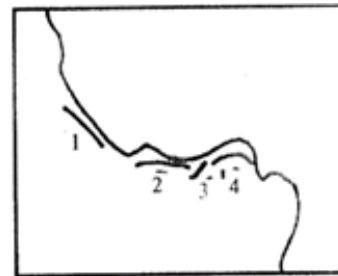
Q 19. मानचित्र में दिए गए कूट को सूची से मिलाएँ:



सूची (जलवायु के प्रकार)

- A. विषुवतरेखीय प्रकार की
- B. सूडान प्रकार की
- C. मानसून प्रकार की
- D. उष्णकटिबंधीय मरुस्थल की

Q 22. गिनी की खाड़ी के मानचित्र में दिए गए कूट को सूची से सुमेलित कीजिए:



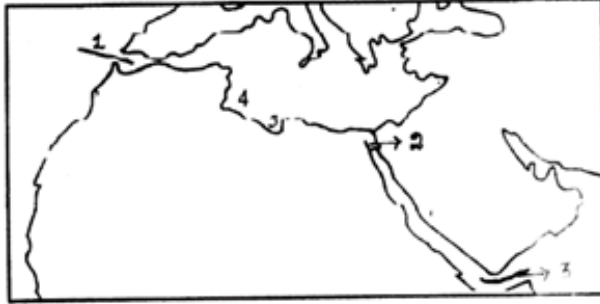
सूची

- A. अनाज तट (ग्रैन कोस्ट)
- B. गोल्ड कोस्ट
- C. आइवरी कोस्ट
- D. स्लैव कोस्ट

सूची

	A	B	C	D
(a)	1	2	4	3
(b)	1	2	3	4
(c)	4	3	2	1
(d)	4	2	3	1

Q 23. मानचित्र में दिए गए कूट को सूची से सुमेलित कीजिए :



सूची

- A. जिब्राल्टर जलसंधि
- B. स्वेज नहर
- C. बाब-अल-मन्देब
- D. सिद्र की खाड़ी
- E. गिब्स की खाड़ी

कूट:

	A	B	C	D	E
(a)	1	2	3	4	5
(b)	1	2	3	5	4
(c)	3	2	1	4	5
(d)	3	2	1	5	4

Q 24. मिस्र के मानचित्र में, दिए गए कूट को सूची से सुमेलित कीजिए:



सूची

- A. स्वेज नहर
- B. काहिरा
- C. सिकंदरिया
- D. पोर्ट सईद

कूट

	1	2	3	4
(a)	A	B	C	D
(b)	D	C	B	A
(c)	B	A	D	C
(d)	C	A	B	D

Q 25. सूची-I को सूची-II से सुमेलित कीजिए और सूचियों के नीचे दिए गए कूट में से सही उत्तर का चयन कीजिए:

सूची-I	सूची-II
A. सबसे ऊँचा पठार	1. अंटार्कटिका
B. दूसरा सबसे बड़ा महाद्वीप	2. आर्कटिक
C. उत्तरी ध्रुव के आस-पास का महासागर	3. आस्ट्रेलिया
D. दक्षिणी ध्रुव के आस-पास का महाद्वीप	4. अफ्रीका
E. द्वीपीय महाद्वीप	5. तिब्बत

Q 26. सूची-I को सूची-II से सुमेलित कीजिए और सूचियों के नीचे दिए गए कूट में से सही उत्तर को चुनिँए:

सूची-I (देश)

- A. बोलीविया
- B. फ्रेंच गुयाना
- C. सूरीनाम
- D. गुयाना

सूची-II (पूँजी)

- 1. जॉर्ज टाउन
- 2. पारामारिबो
- 3. केयेन
- 4. ला पाज़

कूट:

	A	B	C	D
(a)	1	3	2	4
(b)	1	2	3	4
(c)	4	2	3	1
(d)	4	3	2	1

Q 27. निम्नलिखित में से कौन स्थलरुद्ध (landlocked) देश है?

- चिली
- पैराग्वे
- उरुग्वे
- इक्वेडोर

Q 28. निम्नलिखित में से किस महाद्वीप में कोई स्थलरुद्ध (landlocked) देश नहीं है?

- दक्षिण अमेरिका
- उत्तर अमेरिका
- एशिया
- अफ्रीका

Q 29. निम्नलिखित में से कौन-सी झीलें विशेष रूप से संयुक्त राज्य अमेरिका में पाई जाती हैं?

- सुपीरियर
- मिशिगन
- एरी/ ईरी
- ओंटारियो
- हूरों

कूट:

- केवल 1 और 2
- केवल 2 और 5
- केवल 2
- केवल 1 और 5

Q 30. निम्नलिखित कथनों पर विचार कीजिए:

- सेंट लॉरेंस नदी कैलिफोर्निया की खाड़ी में गिरती है।
- नियोग्रा फॉल्स एरी झील और ओंटारियो झील के बीच स्थित है।

कूट:

- 1 और 2 दोनों सही हैं
- 1 और 2 दोनों गलत हैं
- केवल 1 सही है
- केवल 2 सही है

Q 31. निम्नलिखित में से कौन सी नदी अफ्रीका में सबसे अधिक मात्रा में जल प्रवाहित करती है?

- नाइजर
- नील
- जम्बेजी
- ज़ैरे

Q 32. निम्नलिखित में से कौन ग्रेट रिफ्ट वैली का हिस्सा है?

- मलावी झील
- लाल सागर
- विक्टोरिया झील
- स्वेज की खाड़ी

कूट:

- 1, 2 और 3
- 1 और 3
- 1, 2 और 4
- 2, 3 और 4

Q 33. माउंट किलिमंजारो स्थित है

- केन्या
- तंजानिया
- बुरुंडी
- सोमालिया

Q 34. जाम्बिया और जिम्बाब्वे के बीच सीमा बनाने वाली नदी है:

- जम्बेजी या ज़ाम्बेजी (Zambezi)
- लिम्पोपो
- वाल (Vaal)
- ऑरेंज

Q 35. निम्नलिखित में से कौन सी समुद्री धारा 'एल नीनो' घटना से संबंधित है?

- हम्बोल्ट
- बेंगुएला
- कनारी
- कुरोशियो (क्यूरोशिवो)

Q 36. इनमें से कौन नाज़का प्लेट पर स्थित है?

- उत्तरी प्रशांत
- दक्षिण प्रशांत
- उत्तर अटलांटिक
- दक्षिण अटलांटिक

Q 37. पृथ्वी का अक्ष क्रांतिवृत्त (सूर्यपथ) के तल पर कितने डिग्री के कोण पर झुकी हुई है?

- $23\frac{1}{2}^{\circ}$
- $22\frac{1}{2}^{\circ}$
- $66\frac{1}{2}^{\circ}$
- $67\frac{1}{2}^{\circ}$

Q 38. निम्नलिखित कथनों पर विचार कीजिए:

1. ग्रीनलैंड द्वीप विश्व का सबसे बड़ा द्वीप है।
2. माउंट मैकिनली (Mount McKinley) अलास्का पर्वतमाला में स्थित है।

कूट:

- (a) 1 और 2 दोनों सही हैं।
- (b) 1 और 2 दोनों गलत हैं।
- (c) केवल 1 सही है
- (d) केवल 2 सही है उत्तर : A

Q 39. संयुक्त राज्य अमेरिका और मेक्सिको के बीच सीमा का निर्माण KARNए वाली नदी है:

- (a) मिसिसिपी (मिसिसिप्पी)
- (b) मिसौरी
- (c) कोलोराडो
- (d) रियो ग्रांडे

Q 40. निम्नलिखित कथनों पर विचार कीजिए:

1. लिम्पोपो नदी मकर रेखा को दो बार काटती है।
2. ऑरेंज नदी दक्षिण अफ्रीका और नामीबिया के बीच प्राकृतिक सीमा बनाती है।

कूट:

- (a) 1 और 2 दोनों सही हैं।
- (b) 1 और 2 दोनों गलत हैं।
- (c) केवल 1 सही है।
- (d) केवल 2 सही है।

Q 41. वायुमंडल के निम्नलिखित घटकों को अवरोही क्रम में व्यवस्थित करें:

1. ऑक्सीजन
2. आर्गन
3. कार्बन
4. नियोन

कूट

- (a) 2, 1, 3, 4
- (b) 3, 1, 2, 4
- (c) 1, 2, 3, 4
- (d) 1, 2, 4, 3

Q 42. निम्नलिखित कथनों पर विचार करें:

1. विश्व के प्रमुख गर्म रेगिस्तान 15° और 30° उत्तर और दक्षिण के बीच महाद्वीपों के पश्चिमी तटों पर स्थित हैं।
2. दक्षिण अमेरिका में, पेरू का रेगिस्तान सभी रेगिस्तानों में सबसे शुष्क है जहाँ सालाना 0.5 इंच से कम वर्षा होती है।

उपरोक्त में से कौन सा/से कथन सही है/हैं?

- (a) केवल 1
- (b) केवल 2
- (c) 1 और 2 दोनों
- (d) ना ही 1 और ना ही 2

Q 43. भारतीय मानक समय ग्रीनविच मीन टाइम से कितने घंटे आगे है

- (a) ढाई
- (b) साढ़े तीन
- (c) साढ़े चार
- (d) साढ़े पांच

Q 44. निम्नलिखित में से कौन सा/से कथन सही नहीं है/हैं?

1. एंडीज़ में दो मुख्य पर्वतमालाएँ हैं जिनमें से पश्चिमी पर्वतमालाएँ बहुत ऊँची हैं।
2. टिटिकाका झील दक्षिण अमेरिका की सबसे बड़ी झील है, जो बोलीविया के पठार में स्थित है।
3. कोटोपैक्सी एंडीज़ की सबसे ऊँची चोटी है।

कोड:

- (a) केवल 1
- (b) 1 और 3
- (c) 2 और 3
- (d) उपरोक्त सभी

Q 45. निम्नलिखित में से कौन सा/से कथन सही नहीं है/हैं?

1. दक्षिण अमेरिका के केंद्रीय मैदान में ओरिनोको, अमेज़न और प्लाटा नदियों की घाटियाँ शामिल हैं।
2. अमेज़न दुनिया की सबसे बड़ी नदी है क्योंकि यह सबसे अधिक मात्रा में पानी छोड़ती है।
3. अमेज़न एंडीज़ से निकलती है और प्रशांत महासागर में गिरती है।

कोड:

- (a) 1 और 2
- (b) 2 और 3
- (c) केवल 3
- (d) 1 और 3

Q 46. निम्नलिखित में से कौन सा/से कथन सही है/हैं?

1. उत्तरी अर्जेंटीना और पश्चिम पराग्वे के निचले इलाकों में आर्द्र शीतोष्ण वनों को स्थानीय रूप से, ग्रान चाको के नाम से जाना जाता है।
2. अटाकामा रेगिस्तान दुनिया का सबसे शुष्क रेगिस्तान है जो बोलीविया में स्थित है।
3. मध्य चिली में भूमध्यसागरीय प्रकार की जलवायु है।

कोड:

- (a) केवल 1
- (b) केवल 2
- (c) 1 और 3
- (d) 1, 2 और 3

Q 47. उत्तरी अमेरिका के बारे में निम्नलिखित में से कौन सा कथन सही नहीं है?

1. इसके 4 प्रमुख भौतिक विभाग हैं - कैनेडियन शील्ड, रॉकीज़, मध्य मैदान, पूर्वी कॉर्डिलेरा।
2. अमेरिका और कनाडा उत्तरी अमेरिका का 2/3 हिस्सा बनाते हैं।
3. नियाग्रा फॉल एरी झील और ओंटारियो झील के बीच स्थित है।
4. महान पठार महाद्वीप का सबसे बड़ा अंतरपर्वतीय पठार है।

कोड:

- (a) केवल 1 और 2
- (b) 1, 2 और 4
- (c) केवल 4
- (d) केवल 2, 3, 4

Q 48. नदियाँ सिंचाई एवं अन्य सुविधाओं का बड़ा स्रोत होने के साथ-साथ कभी-कभी देशों के बीच सीमाएँ भी बनाती हैं। निम्नलिखित नदियों और उसके सीमावर्ती देशों पर विचार करें।

1. ओरिनोको नदी - कोलंबिया और वेनेजुएला।
2. लिम्पोपो नदी - दक्षिण अफ्रीका और जाम्बिया।
3. जम्बेजी नदी - जाम्बिया और ज़िम्बाब्वे

उपरोक्त में से कौन सा/से सही सुमेलित है/हैं?

- (a) केवल 1 और 3
- (b) केवल 2 और 3
- (c) 1, 2 और 3
- (d) इनमें से कोई नहीं

Q 49. दक्षिण अमेरिका के लोग विभिन्न नस्लीय समूहों से संबंधित हैं। दक्षिण अमेरिका के संदर्भ में निम्नलिखित मिश्रित समूहों के लोगों पर विचार करें।

1. मेस्टिज़ोस मिश्रित भारतीय और यूरोपीय रक्त के लोग हैं।
2. मुलत्तो यूरोपीय और काले मिश्रित रक्त के लोग हैं।
3. जाम्बोस काले और भारतीय रक्त की मिश्रित नस्ल हैं।

उपरोक्त कथनों में से कौन सा/से सही है/हैं?

- (a) केवल 1
- (b) केवल 1 और 2
- (c) केवल 2 और 3
- (d) 1, 2 और 3

Q 50. विक्टोरिया झील अफ्रीकी महाद्वीप में स्थित महान झीलों में से एक मानी जाती है। विक्टोरिया झील के संदर्भ में निम्नलिखित कथनों पर विचार करें।

1. विक्टोरिया झील अफ्रीका की सबसे बड़ी झील है।
2. विक्टोरिया जलप्रपात नील नदी में स्थित है।
3. विक्टोरिया झील जाम्बेजी नदी का उद्गम स्थल है।

उपरोक्त में से कौन सा/से सही है/हैं?

- (a) केवल 1
- (b) केवल 2 और 3
- (c) 1, 2 और 3
- (d) इनमें से कोई नहीं